
ŽUPANIJSKA NATJECANJA "SIGURNO U PROMETU"

Školska godina 2009./2010.

PROMETNI PROPISI I SIGURNOSNA PRAVILA **TEST**

NAPUTAK ZA RJEŠAVANJE TESTA

Ovaj test sadrži 25 pitanja, a vrijeme predviđeno za rješavanje testa je 20 minuta.

Na sva pitanja su ponuđeni odgovori od kojih je najmanje jedan točan.

Pažljivo pročitajte svako pitanje i sve ponuđene odgovore i kada ste sigurni da znate točan odgovor, odnosno točne odgovore, označite ga znakom "X" u kvadratiću koji se nalazi uz odgovor.

Najprije rješavajte pitanja na koja znate odgovor, a teža pitanja ostavite za kraj i u miru o njima razmislite.

Kazneni bodovi se dobivaju: za netočan odgovor na postavljeno pitanje, za odgovor u kojemu je bilo precrtavanja, brisanja ili prepravljavanja, ako na postavljeno pitanje nije dan nikakav odgovor, ili ako na postavljeno pitanje nisu dani svi točni odgovori.



















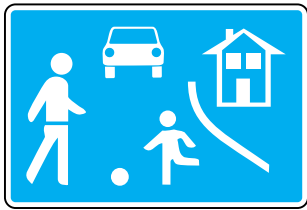
NE ŽURITE S ISPUNJAVANJEM TESTA, VREMENA IMATE DOVOLJNO!






ŽELIMO VAM PUNO USPJEHA U RJEŠAVANJU TESTA







STARTNI BROJ:

BROJ NEGATIVNIH BODOVA:

SUDAC:

<p>1.</p> <p>3 boda</p>	<p>Koji ti od prometnih znakova zabranjuje daljnju vožnju biciklom?</p> <p><input type="checkbox"/> A <input type="checkbox"/> B <input type="checkbox"/> C <input type="checkbox"/> D</p> <div style="display: flex; justify-content: space-around; align-items: center;"> <div style="text-align: center;"> A</div> <div style="text-align: center;"> B</div> <div style="text-align: center;"> C</div> <div style="text-align: center;"> D</div> </div>
<p>2.</p> <p>3 boda</p>	<p>Na koju se od prometnih površina ne smiješ uključiti vozeći bicikl?</p> <p><input type="checkbox"/> A <input type="checkbox"/> B <input type="checkbox"/> C</p> <div style="display: flex; justify-content: space-around; align-items: center;"> <div style="text-align: center;"> A</div> <div style="text-align: center;"> ZONA B</div> <div style="text-align: center;"> Pješačka zona C</div> </div>
<p>3.</p> <p>3 boda</p>	<p>Koji te od prometnih znakova obvezuju na točno propisani smjer kretanja?</p> <p><input type="checkbox"/> A <input type="checkbox"/> B <input type="checkbox"/> C <input type="checkbox"/> D</p> <div style="display: flex; justify-content: space-around; align-items: center;"> <div style="text-align: center;"> A</div> <div style="text-align: center;"> B</div> <div style="text-align: center;"> C</div> <div style="text-align: center;"> D</div> </div>
<p>4.</p> <p>3 boda</p>	<p>Koji od prometnih znakova s dopunskom pločom označuje udaljenost između znaka i mjesta češćeg prelaska djece preko kolnika?</p> <p><input type="checkbox"/> A <input type="checkbox"/> B <input type="checkbox"/> C</p> <div style="display: flex; justify-content: space-around; align-items: center;"> <div style="text-align: center;"> A</div> <div style="text-align: center;"> B</div> <div style="text-align: center;"> C</div> </div>
<p>5.</p> <p>3 boda</p>	<p>Koji od prometnih znakova nalaže da moraš zaustaviti bicikl i propustiti vozilo iz suprotnog smjera?</p> <p><input type="checkbox"/> A <input type="checkbox"/> B <input type="checkbox"/> C <input type="checkbox"/> D</p> <div style="display: flex; justify-content: space-around; align-items: center;"> <div style="text-align: center;"> A</div> <div style="text-align: center;"> B</div> <div style="text-align: center;"> C</div> <div style="text-align: center;"> D</div> </div>
<p>6.</p> <p>3 boda</p>	<p>Kako se moraš kretati nakon ovog prometnog znaka?</p> <p><input type="checkbox"/> Hodati i gurati bicikl <input type="checkbox"/> Voziti brzinom hoda pješaka <input type="checkbox"/> Voziti isključivo nogostupom <input type="checkbox"/> Voziti tako da ne ugrožavaš djecu koja se igraju na kolniku</p> <div style="text-align: center;"></div>

7.	<p>Vozeći bicikl, želiš skrenuti udesno, kako ćeš postupiti u situaciji kao na slici?</p>	
3 boda	<p><input type="checkbox"/> Stati i čekati zelenu dopunsku strelicu</p> <p><input type="checkbox"/> Stati kod znaka "Stop"</p> <p><input type="checkbox"/> Voziti udesno bez zaustavljanja</p> <p><input type="checkbox"/> Nastaviti voziti ravno, jer je desno skretanje zabranjeno</p>	
8.	<p>Koji je redoslijed radnji prilikom uključivanja u promet?</p>	
3 boda	<p><input type="checkbox"/> Provjera preko lijevog ramena okretom glave, pa najava radnje odručenjem lijeve ruke</p> <p><input type="checkbox"/> Najava radnje odručenjem lijeve ruke, pa provjera okretom glave preko lijevog ramena</p> <p><input type="checkbox"/> Provjera preko lijevog ramena okretom glave i bez najave uključivanje u promet</p>	
9.	<p>Vozeći bicikl namjeravaš prijeći kolnik. Kako ćeš postupiti u situaciji kao na slici?</p>	
3 boda	<p><input type="checkbox"/> Prekinut ćeš vožnju i nastaviti hodati po zebri gurajući bicikl</p> <p><input type="checkbox"/> Vozit ćeš obilježenim pješačkim prijelazom (po zebri)</p> <p><input type="checkbox"/> Vozit ćeš crvenim dijelom kolnika</p> <p><input type="checkbox"/> Odustat ćeš od prelaska kolnika</p>	
10.	<p>Vozilo na raskrižju nedvosmisleno skreće ulijevo. Smiješ li ga preteći?</p>	
3 boda	<p><input type="checkbox"/> Da</p> <p><input type="checkbox"/> Ne</p>	
11.	<p>Vozilo na raskrižju nedvosmisleno skreće ulijevo. Kako ćeš postupiti?</p>	
3 boda	<p><input type="checkbox"/> Preteći ćeš ga s lijeve strane</p> <p><input type="checkbox"/> Preteći ćeš ga s desne strane</p> <p><input type="checkbox"/> Sačekat ćeš dok napusti raskrižje pa tek potom nastaviti vožnju</p>	
12.	<p>Prilikom pretjecanja vozač bicikla osobitu pozornost mora obratiti na:</p>	
3 boda	<p><input type="checkbox"/> bočni razmak od vozila koja pretječe</p> <p><input type="checkbox"/> vozila koja nailaze iz suprotnog smjera</p> <p><input type="checkbox"/> brzinu vozila kojeg pretječe</p> <p><input type="checkbox"/> vozila koja voze iza njega</p>	
13.	<p>Vозиš bicikl i naiđeš na ove prometne znakove. Kako ćeš postupiti?</p>	
3 boda	<p><input type="checkbox"/> Usporiti i propustiti pješake na pješačkom prijelazu</p> <p><input type="checkbox"/> Paziti na vozila iz suprotnog smjera, jer se prometna traka ovdje sužava</p> <p><input type="checkbox"/> Povećati brzinu i što prije proći suženje kolnika</p> <p><input type="checkbox"/> Pripremiti se na suženje kolnika</p>	

<p>14.</p> <p>4 boda</p>	<p>Prema prometnoj situaciji na slici, najmanje opasna vožnja za vozača bicikla je:</p> <ul style="list-style-type: none"> <input type="checkbox"/> prometnom površinom koja je označena brojem 1 <input type="checkbox"/> prometnom površinom koja je označena brojem 2 <input type="checkbox"/> prometnom površinom koja je označena brojem 3 <input type="checkbox"/> prometnom površinom koja je označena brojem 4 	
<p>15.</p> <p>4 boda</p>	<p>Voziš bicikl. Na semaforu je trenutno upaljeno žuto svjetlo. Što moraš predvidjeti u situaciji kao na slici?</p> <ul style="list-style-type: none"> <input type="checkbox"/> Pojavu crvenog svjetla <input type="checkbox"/> Pojavu zelenog svjetla <input type="checkbox"/> Prelazak pješaka preko kolnika <input type="checkbox"/> Nailazak tramvaja po desnoj traci 	
<p>16.</p> <p>4 boda</p>	<p>Na koje si opasnosti upozoren u situaciji kao na slici?</p> <ul style="list-style-type: none"> <input type="checkbox"/> Opasan prijevoj <input type="checkbox"/> Opasnost zbog uzastopnih izbočina na kolniku <input type="checkbox"/> Opasnost zbog kolotraga na kolniku u dužini 450 metara <input type="checkbox"/> Opasnost nastupa tek nakon 450 metara 	
<p>17.</p> <p>4 boda</p>	<p>Vozeći bicikl na raskrižju skrećeš udesno. Koje opasnosti možeš predvidjeti u prometnoj situaciji kao na slici?</p> <ul style="list-style-type: none"> <input type="checkbox"/> Nailazak vozila s lijeva <input type="checkbox"/> Pješake koji prelaze kolnik po pješačkom prijelazu ceste u koju skrećeš <input type="checkbox"/> Nailazak vozila koja dolaze iz suprotnog smjera 	
<p>18.</p> <p>4 boda</p>	<p>Koje opasnosti možeš predvidjeti nailaskom na ovaj prometni znak?</p> <ul style="list-style-type: none"> <input type="checkbox"/> Nalet na vozilo ispred <input type="checkbox"/> Produljeni put kočenja <input type="checkbox"/> Skraćeni put kočenja <input type="checkbox"/> Narušenu stabilnost 	
<p>19.</p> <p>4 boda</p>	<p>Koje opasnosti možeš predvidjeti nailaskom na ovaj prometni znak?</p> <ul style="list-style-type: none"> <input type="checkbox"/> Prolazak vozila iz suprotnog smjera bez zaustavljanja <input type="checkbox"/> Otežano mimoilaženje <input type="checkbox"/> Slabiju vidljivost i preglednost <input type="checkbox"/> Suženi dio kolnika (ceste) 	

20.	<p>Prema prometnoj situaciji kao na slici, vozač bicikla mora propustiti:</p>	21.	<p>Prema prometnoj situaciji kao na slici, prije nego prođe raskrižjem vozač bicikla:</p>
5 bodova			5 bodova
	<p><input type="checkbox"/> crveni osobni automobil <input type="checkbox"/> zeleni teretni automobil <input type="checkbox"/> ne mora propustiti nikoga i prvi vozi kroz raskrižje</p>	<p><input type="checkbox"/> mora propustiti samo žuti automobil <input type="checkbox"/> mora propustiti crveni automobil <input type="checkbox"/> mora propustiti oba vozila</p>	
22.	<p>Prema prometnoj situaciji kao na slici, vozač bicikla:</p>	23.	<p>Prema prometnoj situaciji kao na slici, vozač bicikla:</p>
5 bodova			5 bodova
	<p><input type="checkbox"/> mora propustiti samo žuti automobil <input type="checkbox"/> mora propustiti crveno vozilo <input type="checkbox"/> mora propustiti oba vozila <input type="checkbox"/> prvi prolazi raskrižjem</p>	<p><input type="checkbox"/> mora propustiti žuti automobil <input type="checkbox"/> mora propustiti crveni teretni automobil <input type="checkbox"/> mora propustiti oba vozila <input type="checkbox"/> prvi prolazi raskrižjem</p>	
24.	<p>Prema prometnoj situaciji kao na slici, vozač bicikla:</p>	25.	<p>Prema prometnoj situaciji kao na slici, vozač bicikla:</p>
5 bodova			5 bodova
	<p><input type="checkbox"/> mora propustiti crveni teretni automobil <input type="checkbox"/> mora propustiti traktor <input type="checkbox"/> vozi prvi kroz raskrižje</p>	<p><input type="checkbox"/> mora se dogovoriti o prolasku kroz raskrižje <input type="checkbox"/> mora propustiti tramvaj <input type="checkbox"/> mora propustiti žuto vozilo</p>	