
ŽUPANIJSKA NATJECANJA "SIGURNO U PROMETU"

Školska godina 2010./2011.

PROMETNI PROPISI I SIGURNOSNA PRAVILA **TEST**

NAPUTAK ZA RJEŠAVANJE TESTA

Ovaj test sadrži 25 pitanja, a vrijeme predviđeno za rješavanje testa je 20 minuta.

Na sva pitanja su ponuđeni odgovori od kojih je najmanje jedan točan.

Pažljivo pročitajte svako pitanje i sve ponuđene odgovore i kada ste sigurni da znate točan odgovor, odnosno točne odgovore, označite ga znakom "X" u kvadratiću koji se nalazi uz odgovor.

Najprije rješavajte pitanja na koja znate odgovor, a teža pitanja ostavite za kraj i u miru o njima razmislite.

Kazneni bodovi se dobivaju: za netočan odgovor na postavljeno pitanje, za odgovor u kojemu je bilo precrtavanja, brisanja ili prepravljavanja, ako na postavljeno pitanje nije dan nikakav odgovor, ili ako na postavljeno pitanje nisu dani svi točni odgovori.





















NE ŽURITE S ISPUNJAVANJEM TESTA, VREMENA IMATE DOVOLJNO!



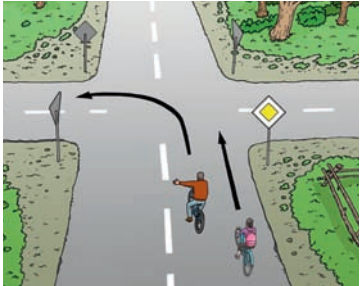
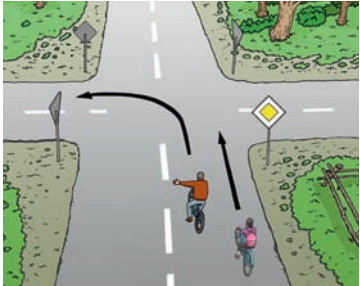


ŽELIMO VAM PUNO USPJEHA U RJEŠAVANJU TESTA







STARTNI BROJ:

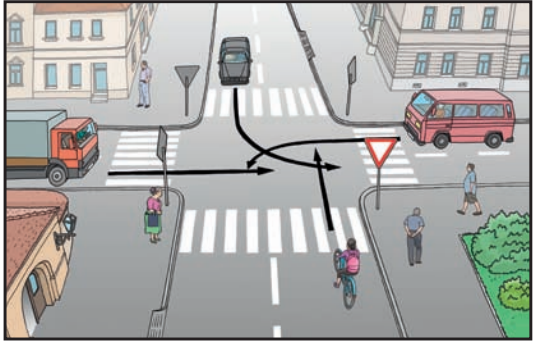
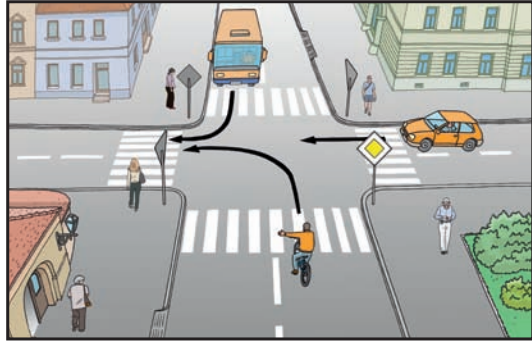
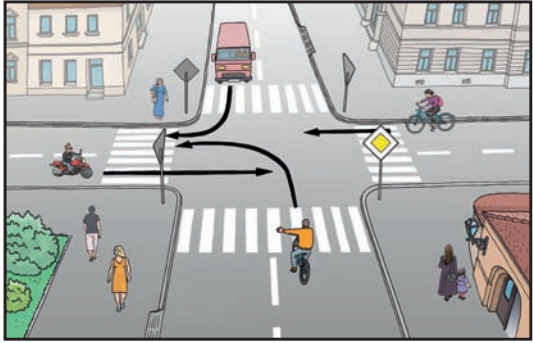
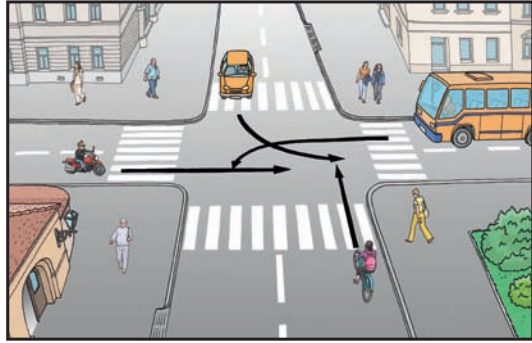
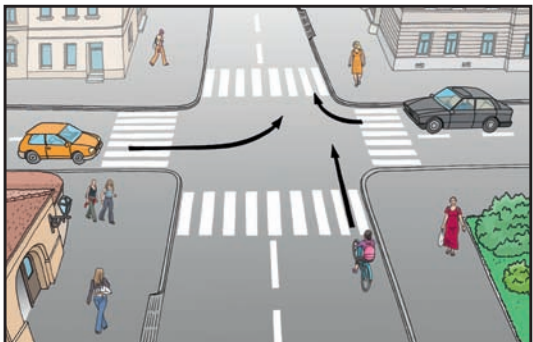
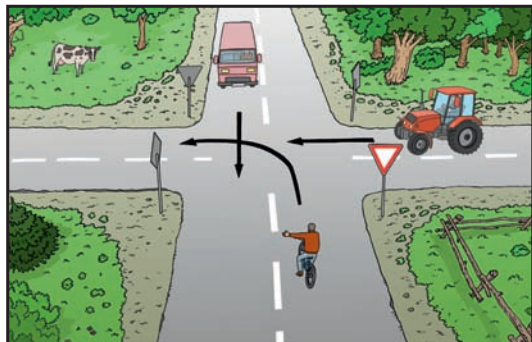
BROJ NEGATIVNIH BODOVA:

SUDAC:

<p>1.</p> <p>3 boda</p>	<p>Koji ti od prometnih znakova ne dozvoljavaju daljnju vožnju biciklom?</p> <p><input type="checkbox"/> A <input type="checkbox"/> B <input type="checkbox"/> C <input type="checkbox"/> D</p> <div style="display: flex; justify-content: space-around; align-items: center;"> <div style="text-align: center;"> A</div> <div style="text-align: center;"> B</div> <div style="text-align: center;"> C</div> <div style="text-align: center;"> D</div> </div>
<p>2.</p> <p>3 boda</p>	<p>Na koju se od prometnih površina smiješ uključiti vozeći bicikl?</p> <p><input type="checkbox"/> A <input type="checkbox"/> B <input type="checkbox"/> C <input type="checkbox"/> D</p> <div style="display: flex; justify-content: space-around; align-items: center;"> <div style="text-align: center;"> A</div> <div style="text-align: center;"> B</div> <div style="text-align: center;"> C</div> <div style="text-align: center;"> D</div> </div>
<p>3.</p> <p>3 boda</p>	<p>Koji te od prometnih znakova obvezuju na točno propisani smjer kretanja?</p> <p><input type="checkbox"/> A <input type="checkbox"/> B <input type="checkbox"/> C <input type="checkbox"/> D</p> <div style="display: flex; justify-content: space-around; align-items: center;"> <div style="text-align: center;"> A</div> <div style="text-align: center;"> B</div> <div style="text-align: center;"> C</div> <div style="text-align: center;"> D</div> </div>
<p>4.</p> <p>3 boda</p>	<p>Koji od prometnih znakova s dopunskom pločom označuje duljinu dijela ceste na kojem djeca često ili u većem broju prelaze preko kolnika?</p> <p><input type="checkbox"/> A <input type="checkbox"/> B <input type="checkbox"/> C</p> <div style="display: flex; justify-content: space-around; align-items: center;"> <div style="text-align: center;"> A</div> <div style="text-align: center;"> B</div> <div style="text-align: center;"> C</div> </div>
<p>5.</p> <p>3 boda</p>	<p>Koji od prometnih znakova nalaže da moraš propustiti vozilo iz suprotnog smjera?</p> <p><input type="checkbox"/> A <input type="checkbox"/> B <input type="checkbox"/> C <input type="checkbox"/> D</p> <div style="display: flex; justify-content: space-around; align-items: center;"> <div style="text-align: center;"> A</div> <div style="text-align: center;"> B</div> <div style="text-align: center;"> C</div> <div style="text-align: center;"> D</div> </div>
<p>6.</p> <p>3 boda</p>	<p>Kako se moraš kretati nakon ovog prometnog znaka?</p> <p><input type="checkbox"/> Voziti isključivo nogostupom <input type="checkbox"/> Voziti brzinom hoda pješaka <input type="checkbox"/> Hodati i gurati bicikl <input type="checkbox"/> Voziti tako da ne ugrožavaš djecu koja se igraju na kolniku</p> <div style="text-align: center;"></div>

<p>7.</p> <p>3 boda</p>	<p>Vozeći bicikl, želiš skrenuti ulijevo, kako ćeš postupiti u situaciji kao na slici?</p> <p><input type="checkbox"/> Voziti ulijevo bez zaustavljanja jer je na semaforu upaljeno zeleno svjetlo</p> <p><input type="checkbox"/> Stati kod znaka "Stop"</p> <p><input type="checkbox"/> Stati i čekati zelenu dopunsku strelicu</p> <p><input type="checkbox"/> Nastaviti voziti ravno jer skretanje ulijevo nije dopušteno</p>	
<p>8.</p> <p>3 boda</p>	<p>Koji je redoslijed radnji prilikom isključivanja iz prometa?</p> <p><input type="checkbox"/> Provjera preko desnog ramena okretom glave, pa najava radnje odručenjem desne ruke</p> <p><input type="checkbox"/> Samo najava radnje odručenjem desne ruke bez provjere okretom glave</p> <p><input type="checkbox"/> Provjera preko desnog ramena okretom glave i bez najave radnje odručenjem isključiti se iz prometa</p>	
<p>9.</p> <p>3 boda</p>	<p>Vozeći bicikl namjeravaš prijeći kolnik. Kako ćeš postupiti u situaciji kao na slici?</p> <p><input type="checkbox"/> Prekinut ćeš vožnju i nastaviti hodati po zebri gurajući bicikl</p> <p><input type="checkbox"/> Vozit ćeš obilježenim pješačkim prijelazom (po zebri)</p> <p><input type="checkbox"/> Vozit ćeš crvenim dijelom kolnika</p> <p><input type="checkbox"/> Odustat ćeš od prelaska kolnika</p>	
<p>10.</p> <p>3 boda</p>	<p>Biciklist na raskrižju nedvosmisleno skreće ulijevo. Smiješ li ga preteći?</p> <p><input type="checkbox"/> Da</p> <p><input type="checkbox"/> Ne</p>	
<p>11.</p> <p>3 boda</p>	<p>Biciklist na raskrižju nedvosmisleno skreće ulijevo. Kako ćeš postupiti?</p> <p><input type="checkbox"/> Preteći ćeš ga s lijeve strane</p> <p><input type="checkbox"/> Preteći ćeš ga s desne strane</p> <p><input type="checkbox"/> Sačekat ćeš dok napusti raskrižje pa tek potom nastaviti vožnju</p>	
<p>12.</p> <p>3 boda</p>	<p>Prilikom pretjecanja vozač bicikla osobitu pozornost mora obratiti na:</p> <p><input type="checkbox"/> bočni razmak od vozila koja pretječe</p> <p><input type="checkbox"/> vozila koja nailaze iz suprotnog smjera</p> <p><input type="checkbox"/> brzinu vozila kojeg pretječe</p> <p><input type="checkbox"/> vozila koja voze iza njega</p>	
<p>13.</p> <p>3 boda</p>	<p>Voziš bicikl i naiđeš na ove prometne znakove. Kako ćeš postupiti?</p> <p><input type="checkbox"/> Usporiti i propustiti pješake na pješačkom prijelazu</p> <p><input type="checkbox"/> Paziti na vozila iz suprotnog smjera, jer se prometna traka ovdje sužava</p> <p><input type="checkbox"/> Povećati brzinu i što prije proći suženje kolnika</p> <p><input type="checkbox"/> Pripremiti se na suženje kolnika</p>	

<p>14.</p> <p>4 boda</p>	<p>Voziš bicikl po prometnoj površini označenoj znakom kao na slici. Koje opasnosti možeš predvidjeti?</p> <p><input type="checkbox"/> opasnost pri mimoilaženju s biciklistom iz suprotnog smjera</p> <p><input type="checkbox"/> sklizak kolnik</p> <p><input type="checkbox"/> opasan uspon</p> <p><input type="checkbox"/> prelazak pješaka preko biciklističke staze</p>	
<p>15.</p> <p>4 boda</p>	<p>Voziš bicikl. Na semaforu je trenutno upaljeno žuto svjetlo. Što moraš predvidjeti u situaciji kao na slici?</p> <p><input type="checkbox"/> Pojavu crvenog svjetla</p> <p><input type="checkbox"/> Pojavu zelenog svjetla</p> <p><input type="checkbox"/> Prelazak pješaka preko kolnika</p> <p><input type="checkbox"/> Nailazak tramvaja po desnoj traci</p>	
<p>16.</p> <p>4 boda</p>	<p>Na koje si opasnosti upozoren u situaciji kao na slici?</p> <p><input type="checkbox"/> Opasan prijevoj</p> <p><input type="checkbox"/> Opasnost zbog uzastopnih izbočina na kolniku</p> <p><input type="checkbox"/> Opasnost zbog kolotraga na kolniku u dužini 450 metara</p> <p><input type="checkbox"/> Opasnost nastupa tek nakon 450 metara</p>	
<p>17.</p> <p>4 boda</p>	<p>Vozeći bicikl na raskrižju skrećeš udesno. Koje opasnosti možeš predvidjeti u prometnoj situaciji kao na slici?</p> <p><input type="checkbox"/> Nailazak vozila s lijeva</p> <p><input type="checkbox"/> Pješake koji prelaze kolnik po pješačkom prijelazu ceste u koju skrećeš</p> <p><input type="checkbox"/> Nailazak vozila koja dolaze iz suprotnog smjera</p>	
<p>18.</p> <p>4 boda</p>	<p>Koje opasnosti možeš predvidjeti nailaskom na ovaj prometni znak?</p> <p><input type="checkbox"/> Nalet na vozilo ispred</p> <p><input type="checkbox"/> Produljeni put kočenja</p> <p><input type="checkbox"/> Skraćeni put kočenja</p> <p><input type="checkbox"/> Narušenu stabilnost</p>	
<p>19.</p> <p>4 boda</p>	<p>Koje opasnosti možeš predvidjeti nailaskom na ovaj prometni znak?</p> <p><input type="checkbox"/> Prolazak vozila iz suprotnog smjera bez zaustavljanja</p> <p><input type="checkbox"/> Otežano mimoilaženje</p> <p><input type="checkbox"/> Gubitak stabilnosti zbog iznenadnog kočenja</p> <p><input type="checkbox"/> Suženi dio kolnika (ceste)</p>	

<p>20.</p> <p>5 bodova</p>	<p>Prema prometnoj situaciji kao na slici, vozač bicikla mora propustiti:</p>  <ul style="list-style-type: none"> <input type="checkbox"/> crveno kombi vozilo <input type="checkbox"/> teretni automobil <input type="checkbox"/> crni osobni automobil 	<p>21.</p> <p>5 bodova</p> <p>Prema prometnoj situaciji kao na slici, prije nego prođe raskrižjem vozač bicikla:</p>  <ul style="list-style-type: none"> <input type="checkbox"/> mora propustiti osobni automobil <input type="checkbox"/> mora propustiti autobus <input type="checkbox"/> mora propustiti oba vozila
<p>22.</p> <p>5 bodova</p>	<p>Prema prometnoj situaciji kao na slici, vozač bicikla:</p>  <ul style="list-style-type: none"> <input type="checkbox"/> mora propustiti motocikl <input type="checkbox"/> mora propustiti autobus <input type="checkbox"/> mora propustiti bicikl s desne strane <input type="checkbox"/> prvi prolazi raskrižjem 	<p>23.</p> <p>5 bodova</p> <p>Prema prometnoj situaciji kao na slici, vozač bicikla:</p>  <ul style="list-style-type: none"> <input type="checkbox"/> mora propustiti žuti automobil <input type="checkbox"/> mora propustiti autobus <input type="checkbox"/> mora propustiti motocikl <input type="checkbox"/> prvi prolazi raskrižjem
<p>24.</p> <p>5 bodova</p>	<p>Prema prometnoj situaciji kao na slici, vozač bicikla:</p>  <ul style="list-style-type: none"> <input type="checkbox"/> mora propustiti žuti automobil <input type="checkbox"/> mora propustiti crni automobil <input type="checkbox"/> vozi prvi kroz raskrižje 	<p>25.</p> <p>5 bodova</p> <p>Prema prometnoj situaciji kao na slici, vozač bicikla:</p>  <ul style="list-style-type: none"> <input type="checkbox"/> mora propustiti traktor <input type="checkbox"/> mora propustiti kombi vozilo <input type="checkbox"/> vozi prvi kroz raskrižje